

Российская Федерация  
АДМИНИСТРАЦИЯ  
ГОРОДА БУЗУЛУКА  
ОРЕНБУРГСКОЙ  
ОБЛАСТИ

Управление  
образования

« \_\_\_\_\_ » \_\_\_\_\_ 20 \_\_\_\_ г.

№ \_\_\_\_\_

Олимпиадная работа  
по истории  
ученика 8 "В" класса  
МОУ "Лицей №1  
имени Романова Ф.В."  
Бурава Ивана Алексеевича  
Учитель - Бурава Юлия Геннадьевна.

Александр НД 8 из 8  
Иван ЕФ.

ВСЕРОССИЙСКАЯ ОЛИМПИАДА ШКОЛЬНИКОВ  
ПО ИСТОРИИ. МУНИЦИПАЛЬНЫЙ ЭТАП.

7-8 КЛАССЫ.

Максимальный балл – 90.

**Задание 1.** Укажите один верный ответ в каждом задании (2 балла за каждый правильный ответ, максимальный балл – 8).

1.1. Председатель следственной комиссии по делу о гибели царевича Дмитрия в 1591 г.

- 1) Андрей Клешнин
- 2) Федор Романов
- 3) Василий Шуйский
- 4) Борис Годунов
- 5) Андрей Курбский
- 6) Иван Воротынский

Ответ: 4 —

I - 0  
II - 4  
III - 5  
IV - 11  
V - 5  
VI - 7 6  
VII - ~~2~~ - 3  
VIII - 3  
XI - 2  
X - 5

1.2. Кому из русских правителей принадлежат эти изображения



- 1) Александр Невский
- 2) Владимир Мономах
- 3) Ярослав Осмомысл
- 4) Дмитрий Донской
- 5) Даниил Галицкий

6) Андрей Боголюбский

Ответ: 2

1.3. Какое из указанных сражений не относится к XVI веку?

1) Судбищенская битва

2) Битва у Молодей

3) Битва под Венденом

4) Раковорская битва

5) Бой под Невелем

6) Битва под Торопцем

Ответ: 1

1.4. Какой племенной союз обитал в Среднем Поднепровье в VIII веке?

1) Дреговичей

2) Древлян

3) Полян

4) Северян

5) Тиверцев

Ответ: 4

Задание 2. Выберите несколько верных ответов в каждом задании (1 балл за каждый правильный ответ, максимальный балл – 7).

2.1. Какие из указанных определений не входили ни в одну редакцию Русской Правды?

1) Правда Ярослава

2) Уроки и погосты

3) Правда Ярославичей

4) Покон вирный

5) Урок мостников

6) Слово о законе и благодати

Ответ: 5, 4 —

2.2. Что из названного относится к итогам правления Ивана III?

- 1) Свержение ордынского владычества
- 2) Получение Россией выхода к морю
- 3) Присоединение к России Сибирского ханства
- 4) Начало созыва Земских соборов
- 5) Подчинение Новгорода Москве
- 6) Отмена местничества

Ответ: 1, 5 ++

2.3. Укажите даты принятия законов о закрепощении крестьян

- 1) 1380 г.
- 2) 1558 г.
- 3) 1581 г.
- 4) 1242 г.
- 5) 1185
- 6) 1597

Ответ: 3, 6 ++

Задание 3. Укажите два неверных (лишних) элемента (явление, термин, событие) в задании. (1 балл за каждый правильный ответ, максимальный балл — 8).

3.1. Ниже приведён перечень терминов. Все они, за исключением двух, относятся к событиям XIII в.

- 1) опричники; 2) баскаки; 3) ордынский выход; 4) пожилое; 5) ярлык; 6) бесермены

Запишите термины.

Ответ: 1, 4 ++

3.2. Ниже приведён список терминов. Все они, за исключением двух относятся ко времени правления княгини Ольги.

- 1) повоз; 2) устав; 3) ловища; 4) Дюденева рать; 5) становища; 6) тарханные грамоты

Запишите термины.

Ответ: 4, 6 ++

3.3. Ниже приведены имена славянских языческих богов. Все они, за исключением двух, входили в пантеон божеств, утвержденный князем Владимиром в ходе языческой религиозной реформы 980 г.

- 1) Перун; 2) Велес; 3) Макошь; 4) Ярило; 5) Дажьбог; 6) Хорс

Запишите термин.

Ответ: 3, 6 —

3.4. Ниже приведен перечень терминов. Все они, за исключением двух, относятся к периоду IX – XI вв.

- 1) смерд; 2) пожилое; 3) погост; 4) холоп; 5) вервь; 6) баскак

Запишите термин.

Ответ: 5, 6 — +

Задание 4. Установите соответствия. Запишите в таблицу выбранные цифры под соответствующими буквами. (1 балл за каждую правильно указанную цифру, максимальный балл – 11).

4.1

- |   |            |
|---|------------|
| А. Крещение Руси                        | 1. 1380 г. |
| Б. Куликовская битва                    | 2. 1480 г. |
| В. Битва на Калке                       | 3. 1613 г. |
| Г. Стояние на реке Угре                 | 4. 1667 г. |
| Д. Избрание Михаила Романова на царство | 5. 988 г.  |
| Е. Заключение Андрусовского перемирия   | 6. 1223 г. |

4.2

- |                      |   |
|----------------------|---|
| А. Иван III          | 1. Основание Московского государства                            |
| Б. Василий III       | 2. Завершение объединения Московского центра с русскими землями |
| В. Петр I            | 3. Политика «просвещенного абсолютизма»                         |
| Г. Екатерина II      | 4. Строительство Санкт-Петербурга                               |
| Д. Александр Невский | 5. Победа при Неве  |

Ответ:

№	А	Б	В	Г	Д	Е
4.1.	5	1	6	2	3	4
4.2.	1	2	4	3	5	

**Задание 5.** Рассмотрите изображение и выполните задания.

**5.1.** Назовите автора картины, ее название и время воздания (век). (За каждый правильный ответ – 1 балл. Максимальный балл – 3.)



Ответ:

Автор	Название произведения	Время создания
Илья Репин +	Иван Грозный убивает своего сына +	XIX век +

**5.2.** Какие суждения о представленной картине являются верными? (за каждое правильное суждение – 1 балл)

1. На картине изображены представители царской династии.
2. Автор картины являлся членом Товарищества передвижных художественных выставок.
3. Данная картина является единственным обращением её автора к теме истории России.
4. Действие картины происходит в XVII в.
5. Автором картины является В. И. Суриков.

Ответ: 1, 2 +

**Задание 6.** Восстановите правильную хронологическую последовательность исторических событий. Запишите ответ в виде последовательности номеров событий в задании (4 балла за каждую верную последовательность, максимальный балл за все задание – 12 баллов)

6.1. Установите хронологическую последовательность событий

- 1) Битва на Калке
- 2) Великий курултай
- 3) Захват монголами Киева
- 4) Битва на реке Сить
- 5) Разгром Рязанского княжества
- 6) Решение о Великом походе на Запад

Ответ: 2, 1, 6, 5, 4, 3

6.2. Установите хронологическую последовательность событий

1. Перемещение столицы России из Москвы в Санкт-Петербург
2. Завершение объединения Московского центра с русскими землями
3. Утверждение Московского судебника
4. Битва на Калке

Ответ: 4, 3, 2, 1

6.3. Установите хронологическую последовательность событий

1. Отмена крепостничества
2. Строительство Санкт-Петербурга
3. Расширение территорий Русского государства при Иване Грозном
4. Избрание Михаила Романова на царство

Ответ: 3, 4, 2, 1

Задание 7. Прочитайте отрывок из документа и ответьте на вопросы. (1 балл за каждый правильный ответ, максимальный балл – 12).

*«Судьба Екатерины доказала, что человеческая воля, желание могут стать не менее реальным и могучим фактором истории» чем десятки многопушечных кораблей и тысячи солдат. Императрица Екатерина создала-*

таки себе славу, ставшую ей мощным оружием, как тот военный корабль, который назывался «Слава Екатерины»...

Французский дипломат Корберон писал в своём донесении, что слава, которую создала себе императрица, её решительный характер, её способности и удача заменяют ей искусных государственных людей и опытных генералов.

...Императрица вошла в историю России как выдающийся государственный деятель, и эпоха её царствования стала временем грандиозных реформ и издания важнейших законодательных актов...

Перед ней были реальные цели укрепления самодержавия, проведения необходимых военной, административной и сословной реформ. Она осуществляла их в едином ключе, с одной генеральной идеей — максимально способствовать развитию и совершенствованию того «регулярного» государства, основы которого заложил ещё Пётр Великий.

...Законодательные акты Екатерины надолго пережили её и вместе с основными законами Петра Великого стали на долгие десятилетия основной российской государственности. Собственно, о таком выводе историка и мечтала, вероятно, честолюбивая царица-законодательница» (из сочинения современного историка Е. В. Анисимова).

1) В какой период царствовал правитель, о котором идет речь в документе?

(1 балл) XVIII век —

2) Под каким названием этот период вошел в историю? (1 балл) Эпоха Просвещения

3) Как оценивает автор эпоху Екатерины II? (1 балл) Эпоха «просвещенного абсолютизма»

4) Какие качества её личности помогли, по мнению современников и историков, совершить столь грандиозные преобразования и создать себе славу? Назовите не менее четырех качеств (3 балла) Воля, характер, свободолюбие, способность

5) Используя текст документа и знания по истории, отметьте, какие реформы были проведены Екатериной II. Назовите не менее четырёх реформ. (3 балла)

Военная, административная, сословная, судебная.


6) Какие законодательные акты были изданы во время правления Екатерины II? Укажите не менее трех (3 балла)

Два акта о мире между Россией и Османским государством.

Задание 8. Внимательно рассмотрите портреты исторических деятелей, связанных с историей Оренбургского края. В представленной таблице укажите:

1) имя исторического деятеля (1 балл); 2) название исторического события, непосредственным участником которого он являлся (1 балл); 3) дату этого события (1 балл) (1 балл за каждый из перечисленных элементов ответа к каждой репродукции, до 3 баллов за ответ по одной репродукции, максимальный балл за все задание — 9).

1	2
---	---



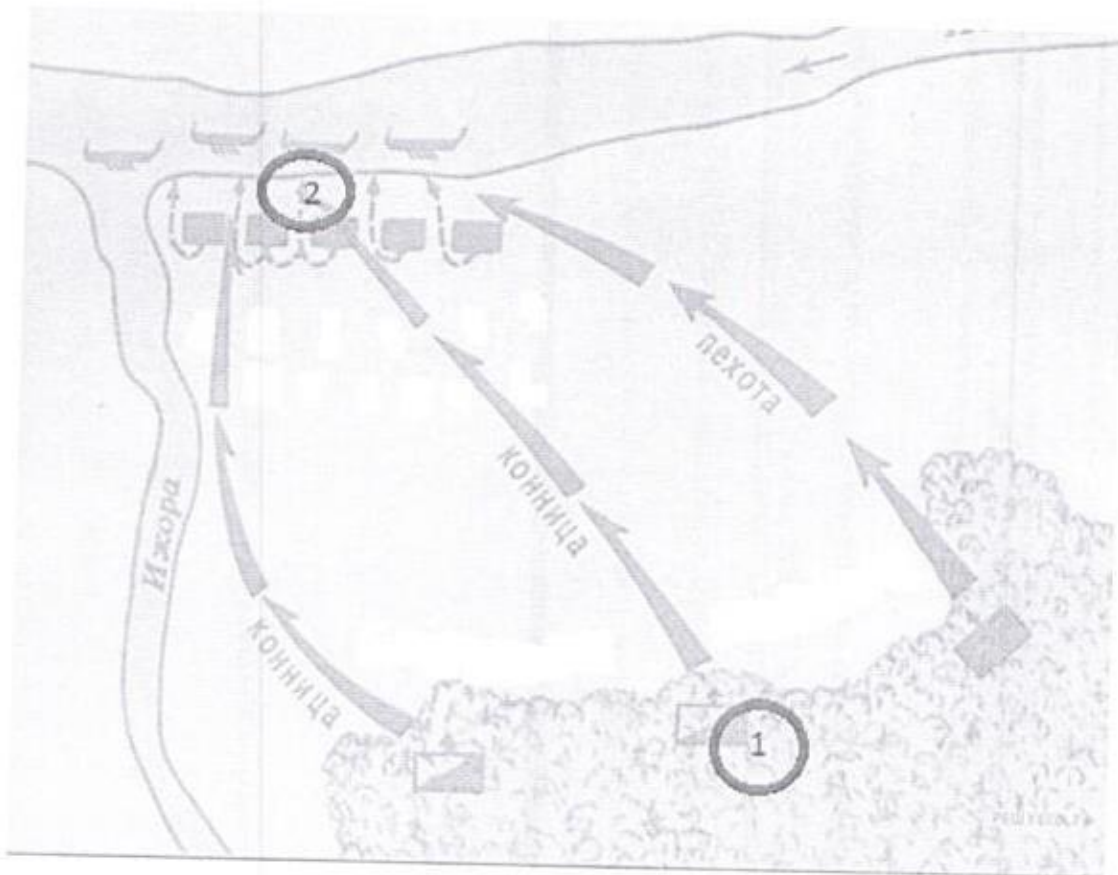
3



Ответ:

№ иллюстрации	Имя исторического деятеля	Название исторического события	Дата события
1	Иван Тимонин +		
2	Васильев -	Создание <del>летописи</del> <del>Васильевская</del> -	
3	Андрей Васильев +	Самостраховка Васильев	1942-1943 г. -

Задание № 9. Внимательно изучите схему и выполните задание (1 балл за каждый правильный из перечисленных элементов ответа, максимальный балл за все задание – 3 балла).



9.1. Назовите князя, победившего в этом сражении

Ответ: Александр Невский

9.2. Назовите сражение, представленное на схеме


Ответ: Невская Битва

9.3 Укажите месяц и год, изображенного на схеме события.

Ответ: июль 1240 года

Задание 10. Назовите произведения искусства, посвященные событию, отображенному на вышеприведенной схеме или участвовавшему в нем князю. Заполните таблицу, выписав номера только тех произведений, которые посвящены указанному событию. К номеру правильного ответа напишите название произведения и его автора. (За каждый правильно названный элемент – 1 балл.)

1.




2.



3.



4.



5.




6.



7.

8.



9.



Ответ запишите в таблицу.

Номер иллюстрации	Название памятника	Автор
8. 1	Картина "Александр Невский" + 10	
2. 1	Скульптура "Александр Невский" 10	
6. 1	Трагедия "Александр Невский" в Новгороде 2	